

## Gəmi sürücülərinin təkmilləşdirilməsi (istismar səviyyəsində)

1. Şəkildə nəyin işarəsi verilib?

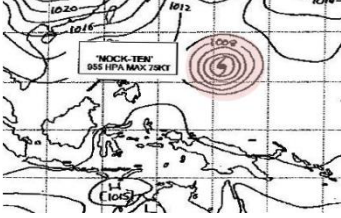


Düzgün cavab: “okklyuziya” cəbhəsinin;

2. Dünya okeanında qüvvətli və davamlı, 2-5 düyün sürəti olan cərəyanı qeyd edin.

Düzgün cavab: Qolfstrim

3. Xəritədə cəhrayı rəngdə qeyd edilmiş simvolu açıqlayın.



Düzgün cavab: tayfun

4. Farvaterə dənizdən daxil olarkən (region A) farvaterin solunda olan buyların hansı rəqəmlərlə nömrələnir ?

Düzgün cavab: tək

5. Xarici təzyiqin azalması halında maye yüklərin qaynama temperaturu necə dəyişir?

Düzgün cavab: azalır

6. “Boarding arrangements” termininə uyğun olan tərifi qeyd edin.

Düzgün cavab: losmanın təhlükəsizliyini təmin edən losman “trapı”, mərasim “trapı” və digər vasitələr

7. Hidrokostyumda hansı hündürlükdən suya təhlükəsiz tullanmaq olar?

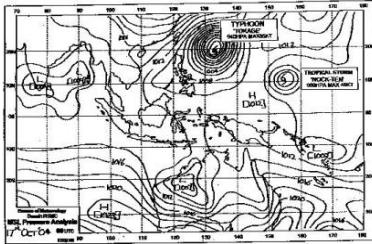


Düzgün cavab: 5 metr

8. Qeyd edilən hansı amil qaydaların tələblərinin yerinə yetirilməməsinə səbəb ola bilər?


Düzgün cavab: biləvasitə təhlükə

9. Hava şəraiti haqqında xəritədə göstərilən Hind okeanının şərq hissəsində yaranan "Frontal" siklon necə adlandırılır?



Düzgün cavab: çox mərkəzli (iki mərkəzli)

10. Hansı gəminin işıqlarını müşahidə edirsiniz?



Düzgün cavab: "Laq" üsulu ilə yedək əməliyyatı ilə məşğul olan gəmi, yedək gəmisinin uzunluğu 50 m-dən azdır, hərəkəti üstümüzədir

11. Cümləni tamamlayın: "What is the ..... of the derricks of the vessel?"

Düzgün cavab: capacity

12. Uyğun gələn söz önünü seçin: "Dispose the sludge ..... the sludge tank."

Düzgün cavab: into

13. Şəkildə göstərilən naviqasiya xəritələrində istifadə edilən şərti işarənin



düzgün mənasını qeyd edin.

Düzgün cavab: radiolokasiya bazis xətti

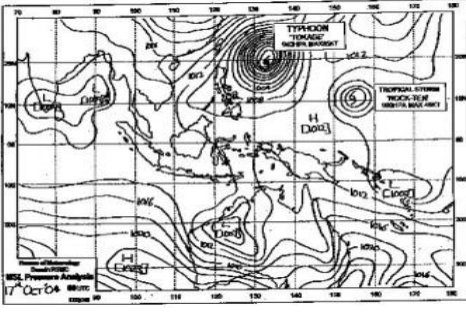
14. Gəmilərdə təhlükəli yüklərlə iş üzrə təlimat nə zaman aparılmalıdır?

Düzgün cavab: əmniyyətliliyin idarə edilməsi sistemin tələblərinə uyğun olaraq

15. "Blind sector" termininə uyğun olan tərif qeyd edin:

Düzgün cavab: gəmi RLS ilə müşahidə edilməyən sahə

16. Hava şəraiti haqqında xəritənin məlumatına görə Sakit okeanın şimal-qərb hissəsində "NOCK TEN" adlı tropik fırtınanın ən çox ehtimal edildiyi hərəkət istiqamətini qeyd edin:



Düzgün cavab: şimal - qərb istiqamətində

17. Şəkilə göstərilən naviqasiya xəritələrində istifadə edilən şərti işarənin düzgün mənasını qeyd edin?



Düzgün cavab: hərəkətin bölünmə sisteminin sərhədi

18. Dənizdə insan həyatının qorunması haqqında” (SOLAS) Beynəlxalq Konvensiyanın tələblərinə uyğun olaraq gəmidə su ilə mübarizə üzrə təlimlərin keçirilməsi müddətini qeyd edin:



Düzgün cavab: Beynəlxalq Konvensiyada bu tələb yoxdur

19. "Inoperative" termininə uyğun olan tərif qeyd edin:

Düzgün cavab: işləməyən, fəaliyyət göstərməyən

20. Gəmidən insanları vertolyotla qaldırmaq üçün gəmi göyertəsinin bir hissəsi hansı hərflə nişanlanmalıdır?



Düzgün cavab: ağ rəngli böyük "H" hərfləri ilə

21. "NAVTEX" qəbul edicinin çap menyusundan hansı məlumatları operator çıxara bilməz?



Düzgün cavab: axtarış və xilasetmə üzrə məlumatları

22. “GMDSS” sisteminə aid fəlakət hallarında radio əlaqəyə öz işləri ilə manəə olan stansiyalara “İşlərini dayandırmaq” göstərişi hansı ardıcılıqla verilir?

1. “MAY DAY”;
2. “ALL STATION”;
3. “İşlərini dayandırmaq” göstərişini verən stansiyanın adı və ya çağırış signalı;
4. “THIS IS”.



Düzgün cavab: 1, 2, 4, 3

23. Gəmidən müvafiq vizual vasitələrlə ötürülən “X” signalı nəyi ifadə edir?

Düzgün cavab: Tibbi yardım tələb olunur

24. Fəlakət rayonlarında “GMDSS” sistemində aid radio əlaqənin məhdudlaşdırılması göstərişini ifadə edən signalı qeyd edin?



Düzgün cavab: “PRUDONCE”


25. Gəmidən insanın dənizə düşdüyü hallarda dərhal yerinə yetirilən gəmi manevrləri hansılardır?

Düzgün cavab: “Anderson” manevri, “Uilyamson” manevri

26. Gəminin “Laq”ın göstəricisinə görə keçdiyi məsafə 64 mildir, “Laq”ın əmsalı  $K=0,95$ . Gəminin keçdiyi həqiqi məsafəni qeyd edin?

Düzgün cavab: 60,8 mil

27. Siz 1sayılı gəmidəsiniz. Şəkildə sizin gəminizin həqiqi kursu hansı hərf ilə qeyd edilmişdir?



Düzgün cavab: A

28. "MAMS" çəpərləmə sistemində istifadə edilən farvaterlərin sağ və sol tərəflərini göstərən işarələr necə adlandırılır?

Düzgün cavab: "Lateral"

29. Gəmidə avtosükanın texniki vəziyyətinə kim cavabdehdir?



Düzgün cavab: Elektrik mexaniki

30. "GMDSS" sisteminə aid "normal" radio əlaqənin icazə verən siqnalını qeyd edin.



Düzgün cavab: "SEELONCE ONCE FEENEE"

31. "Toqquşma" anlayışının ingilis dilinə tərcüməsini qeyd edin:

Düzgün cavab: "Collision"

32. "Yanğın, partlayış" anlayışının ingilis dilinə tərcüməsini qeyd edin:

Düzgün cavab: "Fire, explosion"

33. "Kren, çevrilmə təhlükəsi" anlayışının ingilis dilinə tərcüməsini qeyd edin:

Düzgün cavab: "Listing, capsizing"

34. "Saya oturma" anlayışının ingilis dilinə tərcüməsini qeyd edin:  
Düzgün cavab: "Grounding"

35. "İdarə etmənin itirilməsi və dreyf" anlayışının ingilis dilinə tərcüməsini qeyd edin:  
Düzgün cavab: "Disabled & Adrift"

36. "Gəmini tərk etmə" anlayışının ingilis dilinə tərcüməsini qeyd edin:  
Düzgün cavab: "Abandoning ship"

37. "Yük manifesti" nədir?  
Düzgün cavab: dəniz ilə yük daşımalarını nizamlayan beynəlxalq qanunlar toplusu

38. Qəbul edilmiş yük haqqında qeydlər aparılmasından və kapitanın yük köməkçisi tərəfindən imzalanmasından sonra "yük orderi" necə adlandırılır?  
Düzgün cavab: konosament

39. Gəminin ümumi yükün qəbuluna hazır olması haqqında məlumat hansı sənəddə qeyd edilməlidir?  
Düzgün cavab: gəmi jurnalında

40. Yük göndərən sahibkara şturman qəbzinin əsasında hansı sənəd verilir?  
Düzgün cavab: konosament

41. Maye yüklərin oddan təhlükəliliyinin göstəricisini qeyd edin:  
Düzgün cavab: mayenin doymuş buxarının alışma temperaturu

42. Aşağıdakılardan hansı məlumat konosamentə daxil edilir?  
Düzgün cavab: yüklənmə limanı

43. Hansı sənədin təqdim edilməsi ilə gəmi yük əməliyyatlarına hazırlığını bəyan edir?  
Düzgün cavab: kapitanın bildirişi (Notis)